



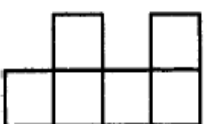
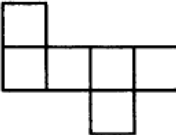
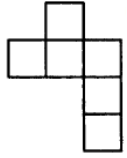
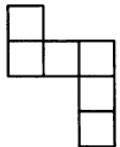


苗栗縣工業會 **Solidworks** 電腦輔助製圖班 編號： 姓名：

- 1 ( ) 隨機存取記憶體通稱為 (1) RAM (2) ROM (3) DAM (4) DOM 。
- 2 ( ) 磁碟作業系統簡稱 (1) DAS (2) DIS (3) DOS (4) DSK 。
- 3 ( ) 目前市面上常用的隨身碟，大多採用何種介面來輸資料 (1) PCI (2) PCMCIA  
(3) SCSI (4) USB 。
- 4 ( ) 電腦螢幕解析度的單位是 (1) Bit (2) Byte (3) DPI (4) Pixel 。
- 5 ( ) 電腦螢幕輸出品質，其決定的標準為 (1) 頻寬 (2) 速度 (3) 顏色 (4) 解析度。
- 6 ( ) 在 PC 中，CPU 之 MHz 的數值愈大，表示其 CPU (1) 品質愈高 (2) 品質愈低  
(3) 運算速度愈快 (4) 運算速度愈慢。
- 7 ( ) 在 PC 中，負責接受及解譯命令之單元為 (1) 輸入單元 (2) 控制單元 (3) 記憶單元  
(4) 算術邏輯單元。
- 8 ( ) 評量雷射印表機列印速度的數值為 (1) BBS (2) DPI (3) PPM (4) RPM 。
- 9 ( ) CAD 軟體是屬於 (1) 作業系統 (2) 編譯程式 (3) 直譯程式 (4) 應用軟體。
- 10 ( ) CAD 系統中所用的數位板(Digitizer) 是屬於 (1) 輸入單元 (2) 輸出單元  
(3) 記憶單元 (4) 控制單元。
- 11 ( ) 表示電腦螢幕大小的規格為 (1) 螢幕水平寬 (2) 螢幕垂直高 (3) 螢幕對角線 (4) 螢幕  
面積
- 12 ( ) 作業系統的功能為 (1) 控制磁碟機運轉加速 (2) 加速電腦連線 (3) 控制電腦正常運作  
(4) 加快程式運算速度。
- 13 ( ) 機械工作圖所用的尺度單位是 (1) m (2) mm (3) km (4)  $\mu\text{m}$  。
- 14 ( ) 比例尺上 1 / 100 m 表示其刻度上之數值單位為 (1)  $\mu\text{m}$  (2) km (3) cm (4) mm 。

- 15 ( ) 視窗應用軟體標題列右上角中  中「」按鈕表示 (1) 最大化 (2) 最小化 (3) 還原 (4) 關閉。
- 16 ( ) 視窗應用軟體標題列右上角  中「」按鈕表示 (1) 最大化 (2) 最小化 (3) 還原 (4) 關閉。
- 17 ( ) 虛線是以 (1) 間斷的粗線 (2) 間斷的細線 (3) 間斷的中線 (4) 連續的細線 表示。
- 18 ( ) 圖學所使用之線型中，唯一的中線是 (1) 實線 (2) 虛線 (3) 中心線 (4) 鏈線。
- 19 ( ) 字體的大小是以 (1) 字體面積 (2) 字體高寬比 (3) 字體高度 (4) 字體寬度 來決定。
- 20 ( ) 為了便於圖面管理，通常會將設計圖摺成何種規格為基準(1) A 4 (2) B 4 (3) A 5 (4) B 5 。
- 21 ( ) 五邊形之內角和為 (1)  $180^\circ$  (2)  $360^\circ$  (3)  $540^\circ$  (4)  $720^\circ$  。
- 22 ( ) 兩直線相垂直時其夾角為 (1)  $60^\circ$  (2)  $90^\circ$  (3)  $120^\circ$  (4)  $180^\circ$  。
- 23 ( ) 半圓的圓心角為 (1)  $60^\circ$  (2)  $90^\circ$  (3)  $120^\circ$  (4)  $180^\circ$  。
- 24 ( ) 視窗軟體中要輸出圖形在使用前應該設定好 (1) 網路 (2) 新增印表機 (3) 郵件 (4) 新增檔案。
- 25 ( ) 為確定出圖結果，在出圖前要先 (1) 預覽 (2) 分色 (3) 環境規畫 (4) 打光。
- 26 ( ) 圖紙之摺疊或裝訂成冊，以摺成下列何種圖紙大小 (1) A 5 (2) A 4 (3) A 3 (4) A 2 。

- 27 ( ) 下圖中可摺成正六面體者為 (1)  (2)   
 (3)  (4) 

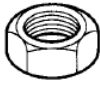



- 28 ( ) 中國國家標準英文之簡稱為 (1) DIN (2) CNS (3) JIS (4) ISO 。
- 29 ( ) CNS 標準規定，中文字以印刷鉛字中的何種字體為主 (1) 等線體 (2) 隸書體

(3) 楷書體 (4) 中圓體。

30 ( ) 正投影視圖中，通常以最能表現物體特徵之視圖為 (1) 俯視圖 (2) 前視圖  
(3) 後視圖 (4) 側視圖。

31 ( ) 螺釘的立體圖為 (1)  (2)  (3)  (4) 

32 ( ) 彈簧的立體圖為 (1)  (2)  (3)  (4) 

33 ( ) 螺帽的立體圖為 (1)  (2)  (3)  (4) 

34 ( ) 導致意外事故最主要的原因是 (1) 環境不良 (2) 技術不佳 (3) 管理不當  
(4) 人為疏忽。

35 ( ) 用來表示人耳所能感受之音壓的單位為 (1) 分貝 (2) 焦耳 (3) 米燭 (4) 居里。

36 ( ) 安全衛生顏色中，代表「救護及安全」的是 (1) 黃色 (2) 綠色 (3) 橙色 (4) 黑色。

37 ( ) 智慧財產法所要保護的是 (1) 社會利益 (2) 一般人知的權利 (3) 人類腦力創作的成果  
(4) 消費樂趣。

38 ( ) 下列何者受著作權法所保障 (1) 法律 (2) 公式 (3) 高普考試題 (4) 音樂著作。

39 ( ) 張三與企業間簽署有保密合約，將營業秘密交付第三者時，可能違反刑法規定，可處以  
(1) 洩漏工商秘密罪 (2) 重製罪 (3) 竊盜罪 (4) 背信罪。

40 ( ) 下列何者不是客戶流失的因素 (1) 對客戶態度馬虎 (2) 缺乏產品知識 (3) 處理太慢  
(4) 態度積極。